

SERTİFİKA TÜRÜ

H

040720091100

3. GRUP

T.C.
MİLLÎ EĞİTİM BAKANLIĞI
EĞİTİM TEKNOLOJİLERİ GENEL MÜDÜRLÜĞÜ
Ölçme Değerlendirme ve
Açıköğretim Kurumları Daire Başkanlığı

KİTAPÇIK TÜRÜ

Z

MOTORLU TAŞIT SÜRÜCÜ ADAYLARI SINAVI SORU KİTAPÇIĞI

Adayın Adı ve Soyadı :
Aday Numarası :

- DİKKAT:** 1. Size verilen soru kitapçığının sertifika türü, almak istediğiniz sertifika türüyle aynı değilse salon görevlilerini uyararak soru kitapçığının doğru kitapçıkla değiştirilmesini sağlayınız.
2. Soru kitapçıklarını kontrol ederek, baskı hatası olan kitapçığın değiştirilmesi için salon görevlilerine başvurunuz.
3. Soru kitapçığındaki açıklamaları okuyunuz.
4. Sınavda yanlarında cep telefonu, çağrı cihazı vb. iletişim araçları bulunduran adayların sınavları iptal edilecektir.
5. Sınav giriş belgesini sınav bitiminde soru kitapçığı ve cevap kâğıdı ile birlikte salon görevlilerine teslim ediniz.
6. Sınav saat 11.00'de başlayıp 12.40'ta biter. Sınav başladıktan sonra ilk 45 dakika içinde hiçbir aday salondan çıkamaz.

CEVAP KÂĞIDI İLE İLGİLİ AÇIKLAMALAR

1. Cevap kâğıdına kodlanmış olarak verilen kitapçık türü ile size verilen kitapçık türünün aynı olmasına dikkat ediniz. Aynı değilse salon görevlilerini uyarınız.
2. Size verilen cevap kâğıdında yazılı olan bilgilerin size ait olup olmadığını kontrol ediniz.
3. Cevap kâğıdı üzerine yazacağınız yazı ve yapacağınız işaretlemelerde kurşun kalemde başka kalem kullanmayınız.
4. Cevap kâğıdında **İLK YARDIM BİLGİSİ, TRAFİK ve ÇEVRE BİLGİSİ, MOTOR ve ARAÇ TEKNİĞİ BİLGİSİ** testleri için üç ayrı bölüm bulunmaktadır. Cevaplarınızı cevap kâğıdındaki ilgili bölümlere aşağıdaki örnekte olduğu gibi yuvarlağı, dışına taşımadan işaretleyiniz. **Soru kitapçığı üzerinde yapılan cevaplandırmalar dikkate alınmaz.**
Yanlış karalamalarınızı düzeltirken yuvarlağın içini temizce siliniz.

ÖRNEK KODLAMA: ●

SORU KİTAPÇIĞI İLE İLGİLİ AÇIKLAMA

1. Bu soru kitapçığında; **İLK YARDIM BİLGİSİ** dersinden 30, **TRAFİK ve ÇEVRE BİLGİSİ** dersinden 50 olmak üzere toplam 80 soru bulunmaktadır. Bu sertifika türü için verilen cevaplama süresi 100 dakikadır.
2. Her sorunun dört seçeneğı vardır. Dört seçenektan sadece bir tanesi doğru cevaptır. Doğru bulduğunuz seçeneğı cevap kâğıdında o soru için ayrılan yerde bularak işaretleyiniz. Birden fazla işaretlemelerde o soru yanlış cevaplandırılmış sayılır.
3. Her ders kendi içerisinde 100 puan üzerinden değerlendirilecektir. Başarılı sayılabilmemiz için her dersten -ayrı ayrı- 70 puan almanız gerekir.
4. Size ayrı bir karalama kâğıdı verilmeyecektir. Soru kitapçığının içindeki boş alanları karalama yapmak için kullanabilirsiniz.
5. Cevabını bilmediğiniz sorular üzerinde fazla zaman kaybetmeden diğer sorulara geçiniz. Zamanınız kalırsa bu sorulara daha sonra dönebilirsiniz.
6. Cevaplarınız puanlanırken her doğru cevaba puan verilecek, yanlış cevaplarınız dikkate alınmayacaktır.
7. Sınavın bitiminde cevap kâğıdınızı ve soru kitapçığınızı salon sorumlularına teslim etmeyi unutmayınız.

Arka sayfadaki açıklamalara geçiniz.

1. Hangi durumdaki yaralı kesinlikle sedye ile taşınmalıdır?

- A) Kolunda yara ve kırık olan
- B) Kaburga kırığı olan
- C) Omurga kırığı olan
- D) Birinci derecede yanığı olan

2. Güneş çarpması sonucu görülen ateş yükselmesinden ilk önce hangi organımız etkilenir?

- A) Akciğer
- B) Beyin
- C) Böbrek
- D) Kalp

3. Kaza yerinden, tıbbi yardım istenirken aşağıdakilerden hangisinin bildirilmesine gerek yoktur?

- A) Yaralıların kimliklerinin
- B) Yaralıların durumu ve sayısının
- C) Açık ve net adresin
- D) Kaza zamanının

4. Hangi yanıklar daha büyük ve belirgin iz bırakır?

- A) Birinci derece yanıklar
- B) İkinci derece yanıklar
- C) Güneş yanıkları
- D) Üçüncü derece yanıklar

5. Aşağıdakilerden hangisi göğüs yaralanması olan yaralıya uygulanmaz?

- A) Yarı oturur duruma getirmek
- B) Batan cisim varsa çıkarmamak
- C) Ayaklar yüksekte tutulup sırtüstü yatırmak
- D) Açık olan yarası temiz bir bezle kapatılıp basınç yapmadan sarmak

6. Aşağıdakilerden hangisi kafa içi yaralanmasının belirtisidir?

- A) Hırıltılı soluk alma
- B) Boyunda şişme
- C) Düzenli ve dolgun nabız
- D) Hızlı hareket etme

7. Kalp masajı yapılacak olan hasta hangi pozisyonda, nasıl zemine yatırılır?

- A) Yan yatış pozisyonunda, sert zemine
- B) Yüzüstü, yumuşak zemine
- C) Sırtüstü, sert zemine
- D) Yarı oturur pozisyonda, yumuşak zemine

8. Aşağıdakilerden hangisi gözlük veya lens kullanarak görme yeterliliğine sahip olan sürücüler için doğrudur?

- A) Bu tür adaylara sürücü belgesi verilmez.
- B) Araç kullanırken gözlük veya lenslerini kullanmak zorundadırlar.
- C) Sadece gece araç kullanırken gözlük veya lens kullanabilirler.
- D) Sadece şehir dışı yollarda gözlük veya lens kullanabilirler.

9. Aşağıdakilerden hangisi kaza yerinden ilk önce taşınmalıdır?

- A) Ölmüş olan
- B) Ağır kanaması olan
- C) Ayağında kırık olan
- D) Dirseğinde çıkığı olan

10. Aşağıdakilerden hangisi yarı oturuş pozisyonuna alınarak taşınabilir?

- A) Bilinci yerinde olmayan
- B) Solunum yolu ile zehirlenmesi olan
- C) Kalça kemiği kırık olan
- D) Kaburga kemiği kırık olan

11. Egzoz gazı zehirlenmelerinde aşağıdakilerden hangisinin olması beklenir?

- A) Tansiyon yükselmesi
- B) Kanın, oksijen taşımasının engellenmesi
- C) Nabız atışının hızlanması
- D) Kanın, karbondioksit taşıma özelliğinin artması

12. Araçlarda emniyet kemeri kullanılmasıyla ilgili olarak aşağıdakilerden hangisi doğrudur?

- A) Şehir içi ve dışı trafikte mecburidir.
- B) Şehir içi ve dışı trafikte isteğe bağlıdır.
- C) Şehir içi trafikte isteğe bağlı, şehir dışında mecburidir.
- D) Şehir içi trafikte mecburi, şehir dışında isteğe bağlıdır.

13. Bacakta, turnike uygulama bölgesi neresidir?

- A) Diz ile kalça arası
- B) Diz ile ayak arası
- C) Diz kapağının olduğu bölge
- D) Ayak bileğinin alt kısmı

14. Aşağıdakilerden hangisi kendiliğinden oluşmuş burun kanamalarında yapılması yanlıştır?

- A) Burun üzerine ve enseye buz konulması
- B) Yüzün soğuk su ile yıkanması
- C) Sargı bezi ile yapılan tamponun burna yerleştirilmesi
- D) Çeneyi göğüsten uzaklaştırarak başın geriye çekilmesi

15. Aşağıdakilerden hangisi bilinç kaybı olan bir hastanın solunum yolunu tıkayarak boğulmasına sebep olabilir?

- A) Çenenin kasılması
- B) Dilin geriye kayması
- C) Başın arkaya düşmesi
- D) Vücudun kasılması

16. Şok pozisyonunda hastanın ayaklarının yukarıya kaldırılmasının amacı nedir?

- A) Sindirime yardımcı olmak
- B) Solunumun düzenli olmasını sağlamak
- C) Vücut sıcaklığını düşürmek
- D) Beyne kan gitmesini sağlamak

17. Aşağıdakilerden hangisi trafik kazalarının önlenmesinde en önemli unsurdur?

- A) Yolları ve kaldırımları onarmak
- B) Araçların bakım ve onarımını önemsemek
- C) Yağmurlu ve sisli havalarda daha dikkatli olmak
- D) Kuralları alışkanlık hâline getiren bireyler yetiştirmek

18. Aşağıdakilerin hangisinde ilk yardım çantası bulundurulması zorunlu değildir?

- A) Motosiklet
- B) Kamyonet
- C) Kamyon
- D) Otobüs

19. Kaza yerindeki araçtan, yaralının çıkarılmasında ilk aşama aşağıdakilerden hangisidir?

- A) Motorun durdurulup aracın sabitlemesidir.
- B) Yaralıyı taşımak için sedye getirilmesidir.
- C) Aracın kapılarının açılmaya çalışılmasıdır.
- D) Yaralının araçtan çıkarılabileceği çıkış yerlerinin sağlanmasıdır.

20. Kalp, vücudumuzda bulunan hangi sisteme ait bir organdır?

- A) Solunum sistemi
- B) Sindirim sistemi
- C) Sinir sistemi
- D) Dolaşım sistemi

21. Beyne gelen oksijenin azalması nedeniyle kısa süreli geçici, tam veya kısmen olan bilinç kaybına ne denir?

- A) Kansızlık
- B) Koma
- C) Bayılma
- D) Şok

22. İlk yardım yapan kişi yaralının omuzlarına hafifçe dokunarak "iyi misiniz?" diye sorar.

Bu davranış ile yaralının hangi durumu kontrol edilir?

- A) Ağız içi
- B) Göğüs hareketi
- C) Solunumu
- D) Bilinci

23. Donma öncesinde vücutta görülen en önemli belirti aşağıdakilerden hangisidir?

- A) Derinin sararması
- B) Hareketliliğin artması
- C) Duyuların kaybolması
- D) Derinin pürüzsüz hâle gelmesi

24. Yeni meydana gelen büyük bir dış kanamada kırık yoksa, kanayan yere ilk önce yapılacak işlem aşağıdakilerden hangisidir?

- A) Kalpten aşağı seviyede tutmak
- B) Yara bandı yapıştırmak
- C) Basınç uygulamak
- D) Soğuk su ile yıkamak

25. Trafik kazasını gören sürücünün yasal sorumluluğu nedir?

- A) Her durumda müdahale etmesi zorunludur.
- B) Kendi isteğine bağlı olarak müdahale etmeyebilir.
- C) Sadece sağlık eğitimi alanların müdahale etme mecburiyeti vardır.
- D) Sadece olaya karışan sürücülerin müdahale etme mecburiyeti vardır.

26. İlk yardım nerede uygulanmaya başlanır?

- A) Hastanenin acil servisinde
- B) Sağlık ocağında
- C) Kaza yerinde
- D) Cankurtaranda

27. Suda boğulan, kalp ve solunumu durmuş yetişkinler için ilk yardımcı tek ise aşağıdakilerden hangisini yaptıktan sonra tıbbi yardım istemelidir?

- A) 30 kalp masajı, 2 solunumu 5 tur uyguladıktan sonra
- B) 30 kalp masajı, 2 solunum uygulamasının hemen sonrası
- C) 60 kalp masajı 1 solunumu 5 tur uyguladıktan sonra
- D) 60 kalp masajı 2 solunum uygulamasının hemen sonrası

28. Aşağıdakilerden hangisi burkulmanın tanımıdır?

- A) Eklemlerde görülen şekil bozukluğudur.
- B) Kemik bütünlüğünün bozulmasıdır.
- C) Kemik uçlarının birbirinden ayrılmasıdır.
- D) Eklem bağları ve yüzeylerinin zedelenmesidir.

29. Ön kol kemiği kırıklarında atel malzemesi bulunmadığında aşağıdakilerden hangisinin yapılması uygundur?

- A) Yaralının kolu baş seviyesine yükseltilir.
- B) Yaralı yüzüstü yatar pozisyona alınarak ön kol sedyeye tespit edilir.
- C) Ceket veya gömlek eteği, ön kol üzerinden kaldırılıp tespit yapılır.
- D) İki kol bilekten birbirine bağlanarak tespit işlemi yapılır.

30. Kırıklar neden sabitlenmelidir?

- A) Kırık kemik uçlarının dokulara zarar vermesini engellemek için
- B) Kırık bölgesinin daha rahat hareket ettirilmesi için
- C) Kırık kemik parçalarının kana karışıp kalbe gitmesini engellemek için
- D) Üşümeyi engellemek için

İLK YARDIM BİLGİSİ TESTİ BİTTİ.
TRAFİK VE ÇEVRE BİLGİSİ TESTİNE GEÇİNİZ.

1. Yerleşim yerleri içindeki yollarda, aksine bir işaret yoksa, minibüs, otobüs ve kamyon için azami hız saatte kaç kilometredir?

- A) 20 B) 30 C) 40 D) 50

2. Taşıtlardaki emniyet kemerinin kullanılması konusunda Cem, Gülnur ve Alper aşağıdaki gibi düşünmektedirler.

Aşırı hız yapmayacaksam kesinlikle kullanmam.

Can emniyetim söz konusu olduğundan her zaman kullanırım.

Trafikte araç sayısına göre davranırım.



CEM



ALPER



GÜLNUR

Buna göre hangisinin düşüncesi doğrudur?

- A) Cem'in B) Gülnur'un
C) Alper'in D) Cem ve Gülnur'un

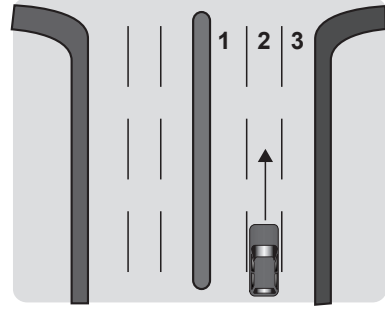
3. Ticari amaçla yük ve yolcu taşımacılığı yapan araç sürücüleri, 24 saatlik bir süre içinde toplam olarak en fazla kaç saat araç kullanabilirler?

- A) 9 B) 8 C) 7 D) 6

4. Suçun işlendiği tarihten itibaren 5 yıl içinde; 0,50 promilin üzerinde alkollü olduğu ikinci defa tespit edilen sürücünün, sürücü belgesi ne kadar süre ile geri alınır?

- A) 30 gün B) 3 ay
C) 6 ay D) 2 yıl

5.



Şekle göre; şehirler arası yolda sağa dönüş yapmak isteyen sürücü, kavşağa 150 metre kala hangi numaralı şeride girmesi gerekir?

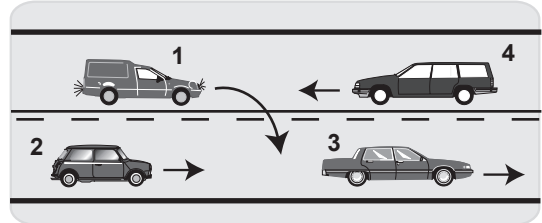
- A) 1 B) 2
C) 3 D) 1 veya 2

6. Sağa dönmek isteyen sürücü aşağıdaki işlemleri hangi sıra ile yapmalıdır?

- 1- Hız azaltılır.
2- İşaret verilir.
3- Dar kavisle dönülür.
4- Yolun sağına yanaşılır.

- A) 2 - 4 - 1 - 3 B) 1 - 2 - 3 - 4
C) 4 - 2 - 1 - 3 D) 1 - 4 - 2 - 3

7.



Şekildeki durumda aşağıdakilerden hangisinin yapılması doğrudur?

- A) 4 numaralı aracın hızını artırması
B) 1 numaralı aracın 2 numaralı aracı geçtikten sonra sağ şeritte girmesi
C) 2 numaralı aracın takip mesafesini azaltması
D) 2 numaralı aracın 3 numaralı aracı geçmeye teşebbüs etmesi

8. Bariyerli demir yolu geçidine yaklaşan sürücü nasıl hareket etmelidir?

- A) Yol açıksa hızlı geçerek uzaklaşmalı
B) Bariyer inmekte ise dikkatli ve hızlı geçmeli
C) Hızını azaltıp, bariyerin izin vermesi hâlinde uygun hızla geçmeli
D) Geçide geldiğinde durup görevlinin işaretini beklemeli

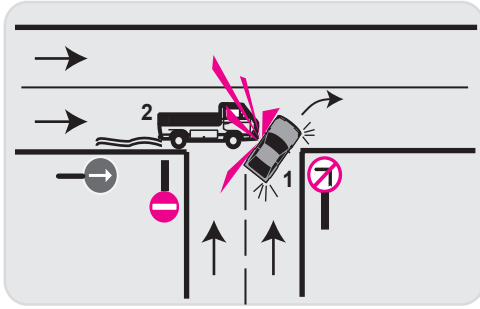
9. Gündüzleri çekilen ve çeken araç arasındaki bağlantının uzunluğu kaç metreyi geçerse, üzerine kırmızı bez veya kırmızı yansıtıcı asılmalıdır?

- A) 1 B) 1,5 C) 2 D) 2,5

10. Yerleşim yerlerindeki kavşaklara kaç metre mesafe içinde duraklama yapmak yasaktır?

- A) 5 B) 10 C) 15 D) 20

11.



Şekle göre aşağıdakilerden hangisi kesinlikle söylenir?

- A) 2. aracın takip mesafesine uymadığı
B) 1. aracın dönüş işaretini yanlış kullandığı
C) 2. aracın yanlış şeritte seyrettiği
D) 1. aracın doğru geçen araca yol vermediği

12. 1. Duraklamanın yasak olduğu yerlerde park etmek yasaktır.
2. Geçiş yolları üzerinde park etmek yasaktır.

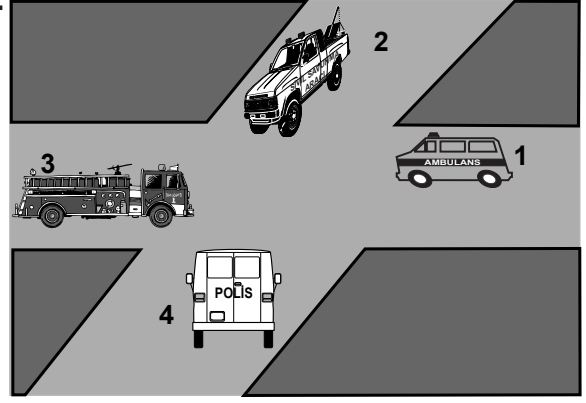
Bu bilgiler için aşağıdakilerden hangisi söylenebilir?

- A) 1. yanlış 2. doğrudur.
B) 1. doğru 2. yanlıştır.
C) Her ikisi de doğrudur.
D) Her ikisi de yanlıştır.

13. Aksine bir işaret yoksa, eğimsiz iki yönlü dar yolda, motorsuz ile motorlu taşıtın karşılaşmaları hâlinde, hangisi diğerine yol vermelidir?

- A) Motorlu taşıt sürücüsü, motorsuz taşıta
B) Şeridi daralmış olan, diğerine
C) Trafik yoğunluğu az olan yöndeki taşıt diğerine
D) Motorsuz taşıt sürücüsü, motorlu taşıta

14.



Şekildeki araçların görev hâlinde, geçiş üstünlüğü sırası nasıl olmalıdır?

- A) 2 - 3 - 4 - 1 B) 3 - 4 - 1 - 2
C) 1 - 3 - 4 - 2 D) 4 - 1 - 2 - 3

15. Okul taşıtının arkasındaki "DUR" işaretinin yandığını gören sürücü nasıl hareket etmelidir?

- A) Hızını artırarak uzaklaşmalıdır.
B) Okul taşıtını geçmemelidir.
C) Dikkatli ve yavaş geçmelidir.
D) Diğer sürücülerini uyarmalıdır.

16. Taşıt yolu dışında kurallara uygun olarak park etmiş araçlara çarpma, trafik kazalarında sayılan hâllerdendir.

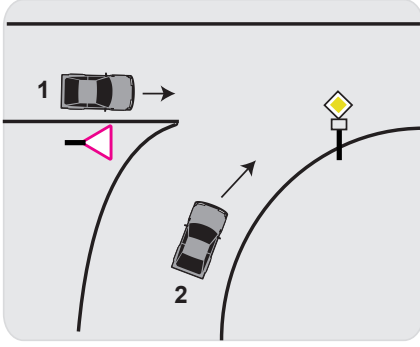
Verilen ifadede noktalarla belirtilen yere aşağıdakilerden hangisi yazılmalıdır?

- A) kusuru paylaşırma
B) asli kusur
C) kusur oranı
D) şeride tecavüz

17. Sürücü belgesinin yanında bulundurmayan sürücüye aşağıdakilerden hangisi uygulanır?

- A) Para cezası ve ceza puanı
B) Trafikten süresiz men
C) Sürücü belgesine 6 ay el koyma
D) Hafif hapis cezası

18.



Şekildeki 1 numaralı aracın sürücüsü ne yapmalıdır?

- A) Korna çalıp 2 numaralı aracı durdurmalıdır.
- B) Geçiş hakkını kendi kullanmalıdır.
- C) 2 numaralı araca yol vermelidir.
- D) Hızlanarak yoluna devam etmelidir.

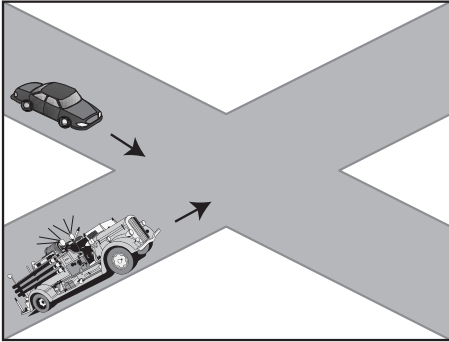
19. Aracının rengini değiştiren kişi, bu durumu kaç gün içinde ilgili trafik kuruluşuna bildirmek zorundadır?

- A) 30
- B) 40
- C) 50
- D) 60

20. "B" sınıf sürücü belgesi olan aşağıdakilerden hangisini kullanamaz?

- A) Otomobil
- B) Minibüs
- C) Kamyonet
- D) Kamyon

21.







Şekildeki karşılaşmada öncelikle itfaiye aracının geçmesi gerekir.

Bu durum aşağıdakilerden hangisi ile açıklanabilir?

- A) İlk geçiş hakkı geçiş üstünlüğü olan araçlarındır.
- B) İtfaiye aracı diğer araca göre daha güçlüdür.
- C) İtfaiye aracı ana yolda seyretmektedir.
- D) Şartlar aynı olduğunda ilk geçiş hakkı sağdan gelen araçlarındır.

22. Aşağıdaki trafik işaretlerinden hangisi dönel kavşağa yaklaşıldığını bildirir?





- A) 
- B) 
- C) 
- D) 

23. Şekildeki tehlike uyarı işaretini gören sürücü aşağıdakilerden hangisini yapmalıdır?



- A) Banketten gitmelidir.
- B) Takip mesafesini artırmalıdır.
- C) Hızını artırarak öndeki aracı geçmelidir.
- D) Acil uyarı ışıklarını yakarak seyretmelidir.

24. Aşağıdakilerden hangisi kontrollü demir yolu geçidine yaklaşıldığını bildirir?

- A) 
- B) 
- C) 
- D) 

25. Şekildeki trafik işaretine göre aşağıdakilerden hangisi yanlıştır?



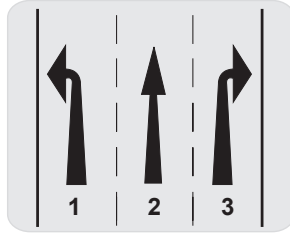
- A) Yol yüzeyi arızalıdır.
- B) Yoldan yavaş geçilmesi gerekir.
- C) Yolda yapım çalışması vardır.
- D) Yolda tümsek vardır.

3. GRUP

TRAFİK ve ÇEVRE BİLGİSİ

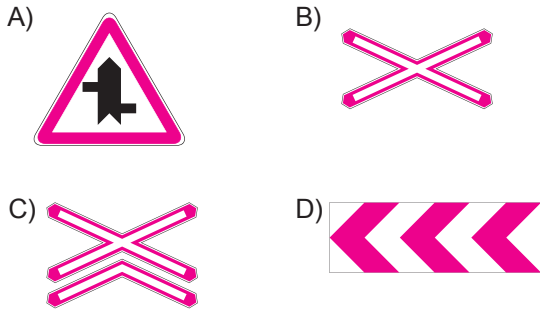
Z

26. Şekle göre, aşağıdakilerden hangisi söylenemez?



- A) 1, 2 ve 3 numaralı şeritler ileri seyir içindir.
- B) 2 numaralı şerit ileri yönde seyir içindir.
- C) 3 numaralı şerit sağa dönüş içindir.
- D) 1 numaralı şerit sola dönüş içindir.

27. Aşağıdakilerden hangisi tehlikeli viraj yön levhadır?

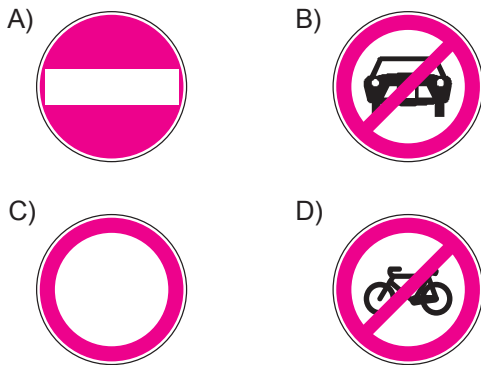


28. Şekildeki trafik işareti neyi bildirir?



- A) Otobüslerin park yerini
- B) Otobüsün giremeyeceğini
- C) Otobüs yolunu
- D) Otobüse hız sınırının olduğunu

29. Aşağıdakilerden hangisi yolun her iki yönden taşıt trafiğine kapatılmış olduğunu bildirir?



30. Şekildeki trafik işareti neyi ifade eder?



- A) Yolun iki taraftan daraldığını
- B) Karşıdan gelene yol verme zorunluluğunu
- C) Yolun çift yönlü olduğunu
- D) Yolun tek yönlü olduğunu

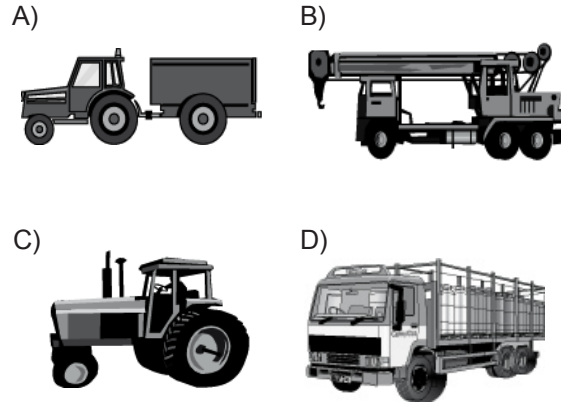
31. Aşağıdakilerden hangisi trafiğin düzenlenmesinde diğerlerine göre önceliğe sahiptir?

- A) Trafik ışıkları
- B) Trafik levhaları
- C) Yer işaretleri
- D) Trafik görevlisi

32. Aşağıdakilerden hangisi şehirler arası kara yollarının yapım ve bakımından sorumludur?

- A) Emniyet Genel Müdürlüğü
- B) İl Belediye Başkanlığı
- C) Karayolları Genel Müdürlüğü
- D) Bayındırlık ve İskân Bakanlığı

33. Aşağıdaki taşıtlardan hangisinin azami yük ağırlığı 3,5 tondan fazla olup, yük taşımak amacıyla imal edilmiştir?



34. Kara yolunda, motorlu veya motorsuz aracı veya taşıtı sevk ve idare eden kişiye ne denir?

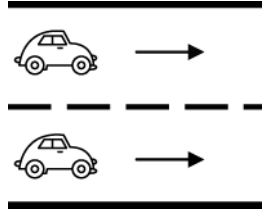
- A) Sürücü
- B) Şoför
- C) İşleten
- D) Araç sahibi

3. GRUP

TRAFİK ve ÇEVRE BİLGİSİ

Z

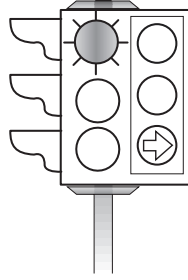
35. Şekle göre taşıt yolunun çizgilerle ayrılmış her bir bölümüne ne denir?



- A) Bölünmüş yol
B) Şerit
C) İki yönlü yol
D) Banket

36. Şekildeki trafik ışığında, kırmızı ışık ve yeşil oklu ışık birlikte yanmaktadır.

Bu durum sürücülere aşağıdakilerden hangisini bildirir?



- A) Sadece sağa dönebileceğini
B) Düz gidilebileceğini
C) Sadece sola dönebileceğini
D) Yolun tüm yönlere açık olduğunu

37. Ticari araç şoförünün aşağıdakilerden hangisini bilmesi ekonomi ve çevre yönünden yarar sağlar?

- A) Şehirdeki yolları ve önemli yerleri
B) Ucuz ve kalitesiz yakıtın satış yerini
C) Araç modellerini ve fiyatlarını
D) Trafik suçuna verilen para cezalarını

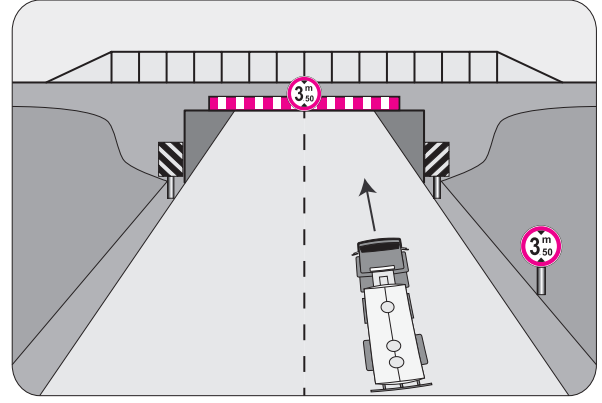
38. Kişilerin huzurunu, ruh ve beden sağlığını bozacak seviyedeki istenmeyen seslere ne ad verilir?

- A) Sesli ilan
B) Gürültü
C) Duyuru
D) Konuşma

39. Canlılarla etkileşim içinde olan doğal ve fiziksel öğelerden oluşan dış ortama ne denir?

- A) İklim
B) Erozyon
C) Atmosfer
D) Çevre

40.



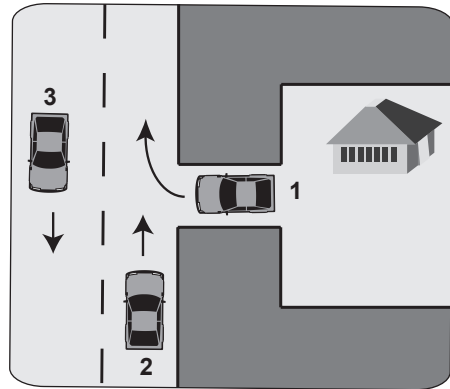
Kamyon sürücüsü, şekildeki alt geçitten geçerken aşağıdakilerden hangisini dikkate almalıdır?

- A) Sınırlı yükseklik gabarisini
B) Taşıma sınırını
C) Dingil ağırlığını
D) Geçme yasağını

41. Yaralı veya acil hasta taşıyan özel araç sürücüleri, geçiş üstünlüğü hakkını nasıl kullanabilirler?

- A) Eskort eşliğinde
B) Sesli ve ışıklı işaretler vererek
C) Seyyar tepe lambası taktırarak
D) Aracında gözcü bulundurarak

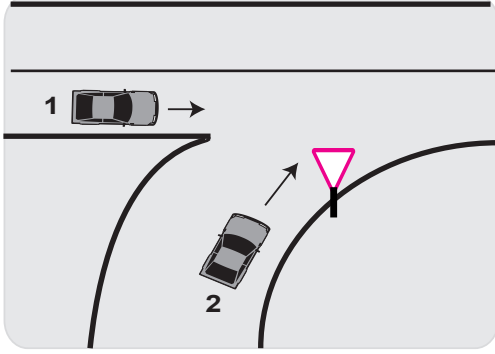
42.



Şekilde belirtilen yol ve araçların durumu için, aşağıdakilerden hangisi yanlıştır?

- A) 1 numaralı taşıt geçiş yolundadır.
B) 2 ve 3 numaralı taşıtlar, iki yönlü kara yolunda seyretmektedir.
C) 1 numaralı taşıt sürücüsü, 2 numaralı taşıtın geçmesini beklemelidir.
D) 2 numaralı taşıt sürücüsü, 1 numaralı taşıta yol vermelidir.

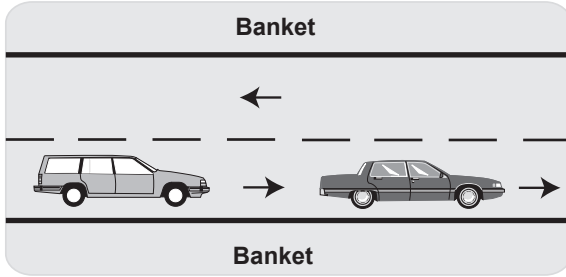
43.



Şekle göre 2 numaralı araç sürücüsünün hangisini yapması doğrudur?

- A) İkaz ederek 1 numaralı aracı durdurması
- B) Hızını artırarak dönüşe geçmesi
- C) 1 numaralı aracın geçmesini beklemesi
- D) Dönüşünü en sol şeritte tamamlaması

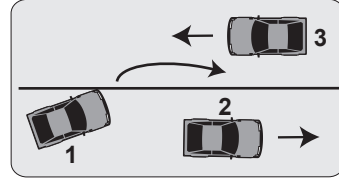
44.



Şekildeki yoldan geceleyin faydalanmak isteyen yayanın, aşağıdakilerden hangisini yapması yanlıştır?

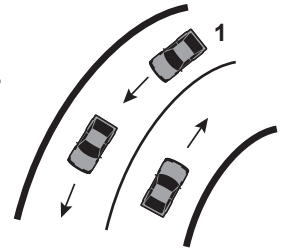
- A) Gidiş yönüne göre sol banketten yürümesi
- B) Açık renkte elbise giymesi
- C) El fenerini sürücülerin dikkatini dağıtmadan kullanması
- D) Trafik yoğunluğu az olan şeritte yürümesi

45. Şekle göre aşağıdakilerden hangisi kesinlikle söylenir?



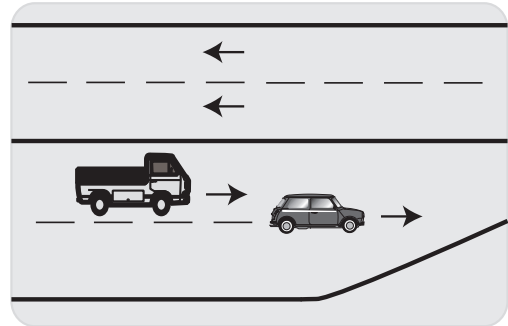
- A) 3 numaralı araç sürücüsünün şerit ihlali yaptığı
- B) 2 numaralı aracın şerit ihlali yaptığı
- C) 1 numaralı araç sürücüsünün geçme yasağına uymadığı
- D) 2 ve 3 numaralı araçların normal hızın altında seyrettiği

46. Şekle göre, 1 numaralı araç sürücüsü aşağıdakilerden hangisini yapmalıdır?



- A) Öndeki aracın geç işaretine uymalıdır.
- B) Hızını artırarak öndeki aracı geçmelidir.
- C) Öndeki araca takip mesafesinden daha fazla yaklaşmalıdır.
- D) Takip mesafesine uyararak bulunduğu şeridi izlemelidir.

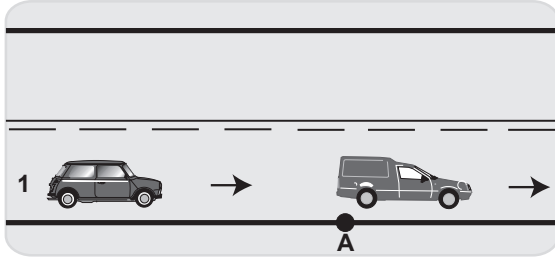
47.



Şekildeki durumda aşağıdakilerden hangisinin yapılması doğrudur?

- A) Arkadaki aracın öndeki araca yol vermesi
- B) Öndeki aracın arkadaki araca yol vermesi
- C) Öndeki aracın arkadaki aracı ikaz ederek durdurması
- D) Arkadaki aracın öndeki aracı ikaz ederek durdurması

48.




Şekildeki 1 numaralı araç sürücüsü, diğer araç A noktasında iken 88–89 diye saymaya başlıyor.

Bu davranışı aşağıdakilerden hangisini belirlemeye yöneliktir?

- A) Motorun verimliliğini
- B) Takip mesafesini
- C) Aracının motor gücünü
- D) Aracının o andaki hızını

49. Şekildeki yolda 1 numaralı araç sürücüsünün aşağıdakilerden hangisini yapması doğrudur?



- A) Takip mesafesini azaltması
- B) Hız sınırını aşması
- C) Hızını azaltması
- D) Önündeki aracı geçmesi

50. Kara yolunda karşıya geçecek yayalar, aşağıdakilerden hangisini tercih etmelidirler?

- A) Yaya yollarını
- B) Banketleri
- C) Yaya geçitlerini
- D) Geçiş yollarını

TEST BİTTİ.
CEVAPLARINIZI KONTROL EDİNİZ.

SINAV SIRASINDA UYULACAK KURALLAR

1. Sınavın başladığı andan itibaren, salon görevlilerinin tüm uyarılarına uymak zorundasınız.
2. Sınav başladıktan sonra görevlilerle konuşmanız ve soru sormanız yasaktır.
3. **Sınav sırasında kopya çeken, çekmeye teşebbüs eden, kopya veren ya da kopya çekilmesine yardım eden, kurallara ve uyarılara uymayan adayların sınavları geçersiz sayılacaktır. Ayrıca bu kişiler ilk 45 dakika sonunda salondan çıkarılacaktır.**
4. Sınav süresince, sınav giriş belgesi ile birlikte nüfus cüzdanı, ehliyet veya pasaport kimlik belgelerinden birini masanızın üzerinde bulundurunuz.
5. Sınav başladıktan sonra adayların birbirleriyle konuşmaları, kalem, silgi vb. şeyleri istemeleri yasaktır.
6. Sınav sırasında sigara, çay vb. içilmez.
7. Sınavın başladığı belirtilmeden soru kitapçıkları açılmaz ve cevaplandırma yapılamaz.
8. **Sınav sonrası sınav giriş belgesini, soru kitapçığını ve cevap kâğıdını mutlaka salon görevlilerine teslim ediniz. Sınav evraklarını teslim etmeyen, soru kitapçıklarının sayfalarından bir kısmını eksik teslim edenlerin sınavları geçersiz sayılacak, ayrıca haklarında yasal işlem yapılacaktır.**

Soracağınız bir şey var mı? Varsa, şimdi sorunuz; sınav başladıktan sonra sorularınıza cevap verilmeyecektir. Hazır mısınız? Sınav, okulun bütün salonlarında aynı anda başlayacağı için başlama zilini beraberce bekleyelim. Hepinize başarılar dileriz.

(Salon başkanı başlama ve bitiş saatini tahtaya yazacaktır.)

Bu kitapçığın her hakkı saklıdır. Hangi amaçla olursa olsun, kitapçığın tamamının veya bir kısmının Millî Eğitim Bakanlığı Eğitim Teknolojileri Genel Müdürlüğünün yazılı izni olmadan kopya edilmesi, fotoğraflarının çekilmesi, bilgisayar ortamına alınması, herhangi bir yolla çoğaltılması, yayımlanması veya başka bir amaçla kullanılması yasaktır. Bu yasağa uymayanlar, doğabilecek cezai sorumluluğu ve kitapçığın hazırlanmasındaki mali külfeti peşinen kabullenmiş sayılır.

BAŞLAYINIZ DENİLMEDEN SORU KİTAPÇIĞINI AÇMAYINIZ.